

PLANO DE ESTUDO TUTORADO 9º ANO

GEOGRAFIA


Ensino Fundamental

SEMANA 12



NOME DO (A) ALUNO (A):

TURMA:



PLANO DE ESTUDO TUTORADO

COMPONENTE CURRICULAR: GEOGRAFIA

NOME DA ESCOLA: ESCOLA MUNICIPAL LINDOLFO DE ALMEIDA FERREIRA

PROFESSORA: HELENE AUGUSTA FARIA RIBEIRO

NOME DO (A) ALUNO (A):

ANO DE ESCOLARIDADE: 9º ANO

TURNO: MATUTINO E VESPERTINO

TURMA: A, B

TOTAL DE SEMANA: 01

NÚMERO DE AULAS POR SEMANA: 3

NÚMERO DE AULAS POR MÊS: 12

SEMANA 12

TEMA: SEGURANÇA ALIMENTAR — GRÁFICOS E CARTOGRAFIA

DURAÇÃO: 2h40 (3 horas/aula)

Caro (a) estudante! Nessa semana você vai aprofundar seus conhecimentos sobre importantes formas de representar os fenômenos geográficos, os cartogramas, as anamorfoses e os gráficos. E realizará também a interpretação de fenômenos sobre a fome no mundo. Bom estudo!

FIQUE POR DENTRO DOS CONCEITOS...

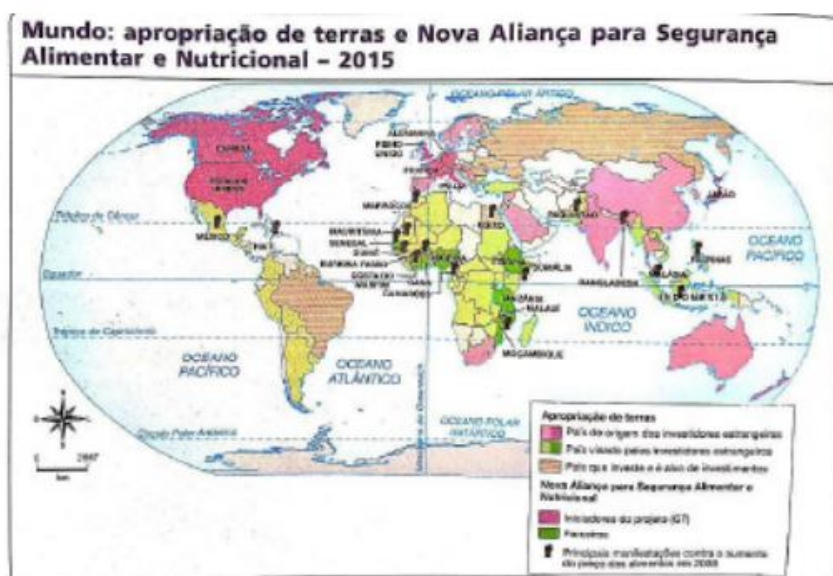
CARTOGRAFIA

O mapa é uma representação gráfica reduzida da realidade e possui alguns elementos que facilitam a sua leitura e análise: título, fonte, orientação, escala e legenda. Todos os elementos são importantes para a correta interpretação dos fenômenos realizados, todavia é a legenda que decodifica os recursos visuais representados no mapa. A correta leitura da legenda é de fundamental importância para o entendimento dos fenômenos representados pelos mapas temáticos e cartogramas, uma vez que a Cartografia Temática faz uso de uma série de símbolos, cores, códigos, linhas e formas (de diversos tamanhos) para mostrar a variação visual das informações acerca do fenômeno que se deseja representar. — Anamorfose geográfica ou cartográfica é uma forma de representação do espaço geográfico em que há a distorção da proporcionalidade entre os territórios para adequá-los aos dados quantitativos que norteiam o mapa. A palavra anamorfose tem origem na junção de dois termos gregos (aná: “sobre” + morphê: “forma”), podendo ser entendida como “formado de novo”. Os mapas anamórficos, como são conhecidas essas representações cartográficas, são elaborados a partir da análise de dados quantitativos referentes a uma determinada área. — Cartograma é um mapa que

através de pontos, cores, figuras ou linhas representa a área de ocorrência, importância, movimentação e evolução de um fenômeno. Podemos encontrar diversos exemplos nos livros de geografia onde são apresentados mapas que, por meio de cores, áreas pontilhadas ou tracejadas, transmitem várias informações de quantidades.

A FOME VOLTA A CRESCER NO MUNDO, AFIRMA NOVO RELATÓRIO DA ONU

Em declínio constante por mais de uma década, a fome no mundo voltou a crescer e afetou 815 milhões de pessoas em 2016, o que representa 11% da população mundial. Os dados são da nova edição do relatório anual da ONU sobre a segurança alimentar e nutricional [...]. Além disso, o estudo aponta que múltiplas formas de má nutrição ameaçam a saúde de milhões de pessoas. Esse número — de mais de 38 milhões de pessoas do que o ano anterior — deve-se, em grande parte, à proliferação de conflitos violentos e a mudanças climáticas, segundo explica o estudo O Estado da Segurança Alimentar e da Nutrição no Mundo (2017). Conforme o estudo, cerca de 155 milhões de crianças menores de cinco anos sofrem com o atraso no crescimento (estatura baixa para a idade), enquanto 52 milhões estão com o peso abaixo do ideal para a estatura. Estima-se, ainda, que 41 milhões de crianças estejam com sobrepeso. A anemia entre as mulheres e a obesidade adulta também são motivos de preocupação. De acordo com o relatório, essas tendências são consequências não só dos conflitos e das mudanças climáticas, mas também das profundas alterações nos hábitos alimentares e das crises econômicas.



Fonte: STIENNE, A. Main basse sur les terres agricoles. *Le Monde Diplomatique*. Paris, n. 142, ago. 2015, p. 64-65.

Fonte: PAULA, Marcelo Morais; RAMA, Maria Angela Gomes; PINESSO, Denise Cristina Christov. *Geografia espaço & interação: 9º ano: ensino fundamental*. — 1. ed. São Paulo: FTD, 2018.

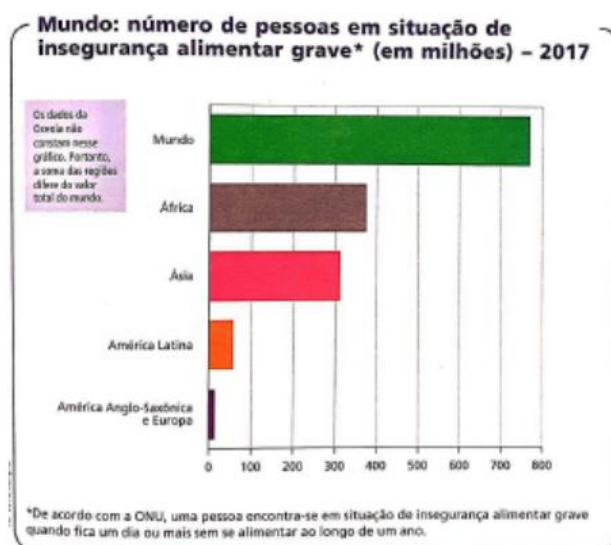
ATIVIDADES

1 — Acima temos um exemplo de mapa temático que utiliza as variáveis cor e forma para representar a dinâmica de apropriação de terras no mundo. Que grupo de países os tons de lilás representam? E os tons de verde? Como estão representados os países que investem em terras e, ao mesmo tempo, são alvo de investimento? Que países são esses?

2 — No ano de 2008 ocorreu uma grave crise alimentar mundial, causada por crescimento na demanda por alimentos, uso de grãos para a produção de biocombustíveis, alta do preço do dólar entre outros fatores.

a) Indique os países onde ocorreram manifestações contra a alta do preço dos alimentos.

b) Em quais continentes esses países se localizam.



Fonte: FAO/ONU. The State of Food Security and Nutrition in The World. Building Climate Resilience For Food Security and Nutrition. Roma, 2018. p.10.

BOM TRABALHO- PROFESSORA- HELENE AUGUSTA (99974-3948)

GEOGRAFIA 9º ANO