

PLANO DE ESTUDO TUTORADO 9º ANO

GEOGRAFIA


Ensino Fundamental

SEMANA 16



NOME DO (A) ALUNO (A):

TURMA:



PLANO DE ESTUDO TUTORADO

COMPONENTE CURRICULAR: GEOGRAFIA

NOME DA ESCOLA: ESCOLA MUNICIPAL LINDOLFO DE ALMEIDA FERREIRA

PROFESSORA: HELENE AUGUSTA FARIA RIBEIRO

NOME DO (A) ALUNO (A):

ANO DE ESCOLARIDADE: 9º ANO

TURNO: MATUTINO E VESPERTINO

TURMA: A, B

TOTAL DE SEMANA: 01

NÚMERO DE AULAS POR SEMANA: 3

NÚMERO DE AULAS POR MÊS: 12

SEMANA 16

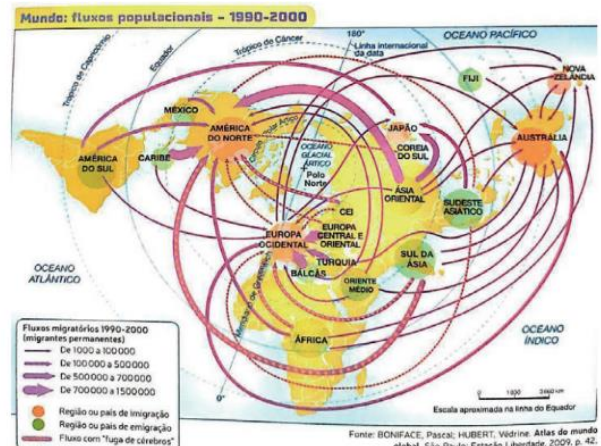
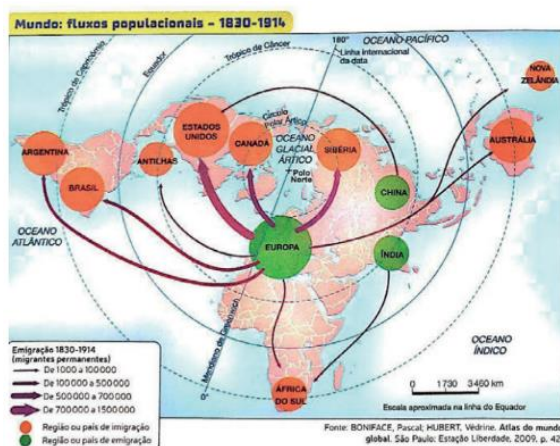
TEMA: OS FLUXOS POPULACIONAIS NA GLOBALIZAÇÃO

Caro (a) estudante! Atualmente, os fluxos populacionais no mundo constituem-se de múltiplas formas de migração e são uma característica marcante do processo contemporâneo de globalização. Nessa semana, você vai aprofundar seus conhecimentos sobre os fluxos migratórios no mundo, além de estudar sobre casos de racismo e xenofobia. Bom estudo!

MIGRAÇÕES, RACISMO E XENOFOBIA

O fenômeno da migração é tão antigo quanto à humanidade, que sempre se deslocou para novos territórios, às vezes já ocupado por outros grupos. Embora não existam dúvidas de que cada vez mais pessoas têm migrado nas últimas décadas, os fenômenos migratórios e a presença de migrantes entre as populações nativas também foram marcantes em outros contextos.

Com base nos mapas abaixo, podemos perceber que as migrações não são propriamente uma novidade, tampouco possuem mais importância atualmente do que em épocas anteriores. No entanto, esses movimentos contemporâneos são fenômenos sociais amplamente discutidos e sua dinâmica global é um importante aspecto da atual fase da globalização.



Os fluxos populacionais atuais contrastam com os ocorridos em outros períodos da história. Porém, não simplesmente pela proporção de migrantes no conjunto das populações, ainda que sua quantidade absoluta seja cada vez maior. O principal contraste, em relação a períodos anteriores da história, são suas novas características, como: direção predominante, principais emissores e, especialmente, a forma contraditória como são tratados os imigrantes nos países de destino, que saem em busca de melhores condições de vida e trabalho, tendo, geralmente, o sonho de um dia retornar ao seu país de origem.

Os fluxos de trabalhadores no mundo, em geral, caracterizam importantes contribuições econômicas e culturais para outros países. No entanto, atualmente, em países mais ricos têm aumentado a onda de discriminação e preconceito contra os imigrantes de países pobres, expressa nas legislações cada vez mais restritivas a estrangeiros. Há também uma quantidade crescente de agressões e hostilidades de grupos locais contra famílias de trabalhadores imigrantes.

Tal reação é provocada pelo sentimento conhecido como xenofobia, caracterizado pela aversão à pessoa estrangeira, à sua crença e ao seu modo de vida. Esse problema também está associado a um pensamento equivocado de que os imigrantes seriam “concorrentes” em um mercado de trabalho que está cada vez mais saturado nos países desenvolvidos, e que eles ameaçariam a mão de obra local, aumentando o desemprego e pressionando os salários para níveis mais baixos.

ATIVIDADES

1 — Observe os dois mapas do texto da semana e analise as transformações ocorridas em relação aos fluxos globais e população nos períodos representados. Anote suas conclusões.

3 — Leia a reportagem abaixo:

Extremismos e xenofobia crescentes ampliam relevância da Declaração dos Direitos Humanos

Setenta anos depois de sua aprovação, a Declaração Universal dos Direitos Humanos permanece essencial para os países e a comunidade internacional, diante das crescentes ondas de xenofobia, discursos de ódio e perseguições de minorias no mundo todo.[...]

Extremismos e xenofobia crescentes ampliam relevância da Declaração dos Direitos Humanos. ONUBR.

Disponível em: <https://nacoesunidas.org/extremismos-e-xenofobia-crescentes-ampliam-relevancia-da-declaracao-dos-direitos-humanos/>. Acesso em: 04/07/2020.

Crie uma frase de efeito de negação ao racismo e à xenofobia e de respeito aos imigrantes (refugiados ou não) que vivem em nosso país.

2 — Observe a fotografia e responda:



Barracas de imigrantes nas ruas de Paris.
Disponíveis em: <<https://img.estadao.com.br/fotos/crop/1200x900/resources/jpg/5/3/1477692803435.jpg>>.
Acesso em: 20/08/2020.

a) Todos os imigrantes conseguem melhores condições de vida e de renda na Europa? Justifique sua resposta relacionando-a à cena retratada.

b) Em geral, qual a relação da presença de imigrantes na Europa com a xenofobia?

BOM TRABALHO PROF^a- HELENE AUGUSTA (99974- 3948)

SEMPRE A DISPOSIÇÃO A QUALQUER DÚVIDAS.

GEOGRAFIA 9º ANO